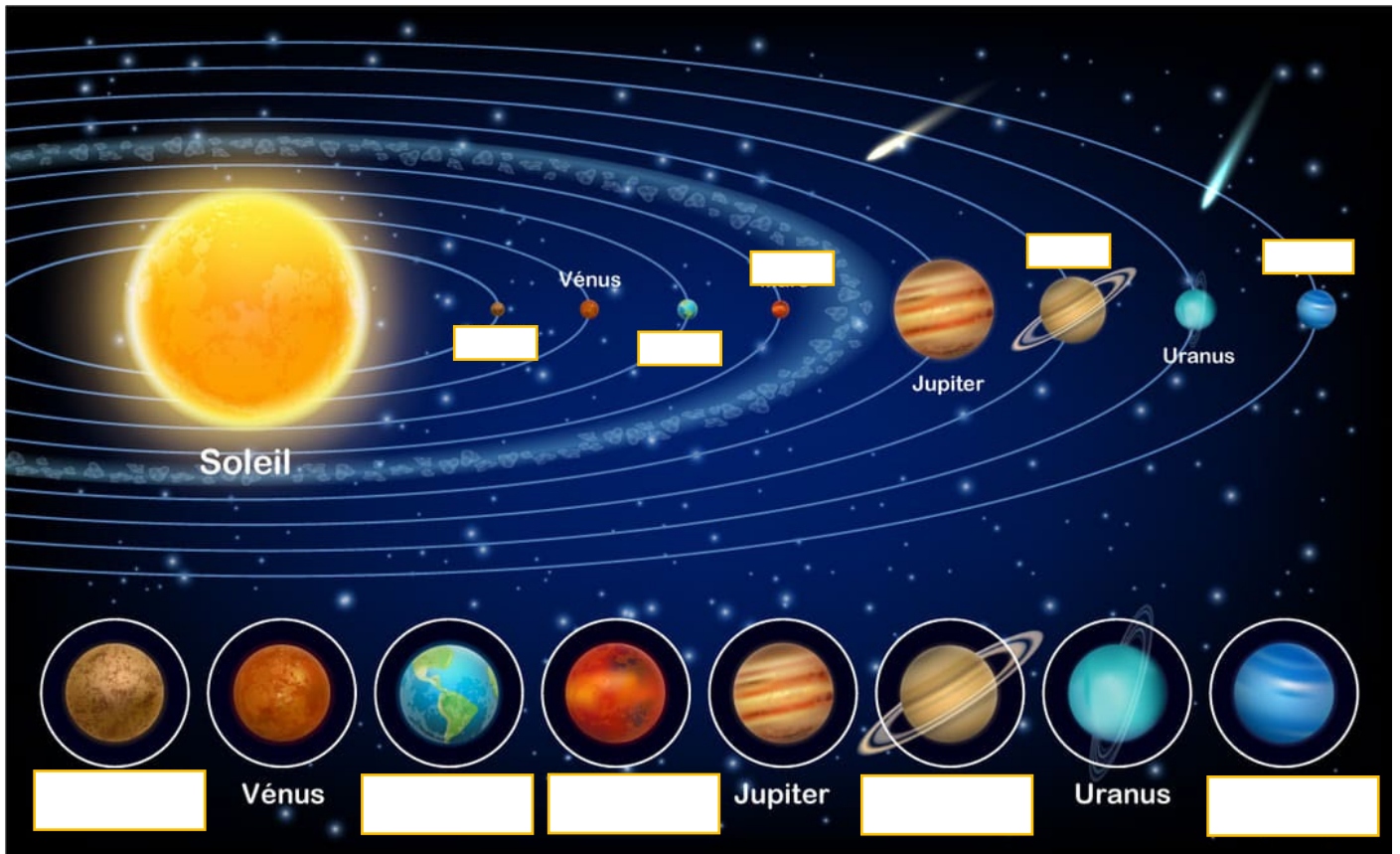


Activité 2

Regardez l'image ci-dessous. Qu'est-ce que ça représente ?

Connaissez-vous toutes les planètes du Système Solaire ? Le nom de certaines planètes est caché. Retrouvez-les !



Pour vérifier que vous avez bien retenu les noms des planètes et leur ordre dans le Système Solaire, cachez l'image et faites l'exercice **en ligne**.



Activité 3



Que savez-vous de la Lune?

Compréhension orale : **Revivez le premier pas de l'Homme sur la Lune**

https://www.youtube.com/watch?v=Ty0jdUt169M&ab_channel=NatGeoFrance






1. Quel est le nom de la première personne à avoir marché sur la Lune ?
.....
2. En quelle année cet événement a eu lieu ?
a. 1955 b. 1869 c. 1969 d. 1970
3. À quelle heure pose-t-il le pied sur la Lune ?
a. 21h35 b. 21h56 c. 22h56 d. 19h33
4. Quelle phrase célèbre prononce-t-il à son arrivée sur la Lune ?
.....
5. En quelle année est-il décédé?
a. 2002 b. 2022 c. 2014 d. 2012

Pour aller plus loin

1. Quelle est le nom de la mission d'exploration spatiale mise en place par les États-Unis ?
...
2. Combien de personnes font partie de l'expédition de 1969 ?.....
3. Quel célèbre personnage de bande-dessinée marche sur la Lune ?.....
4. Quel personnage de dessin animé tient son nom d'un membre de l'expédition de 1969? ...
5. Dans l'Histoire, combien de personnes ont marché sur la Lune ?.....

Activité 4

Associez les images aux noms correspondants, puis aux artistes qui les représentent.



- Stephen Hawking
- Laika
- Meas Sokhorn
- Nicolas Tesla
- Déchets
- Albert Einstein
- Marie-Luce Nadal
- Apsara
- Lune
- OVNI
- Riem Monisilong
- E.T